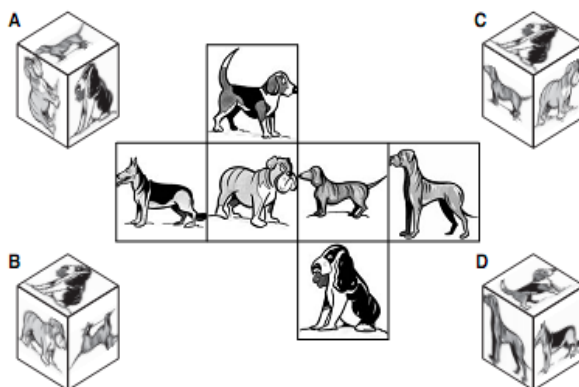
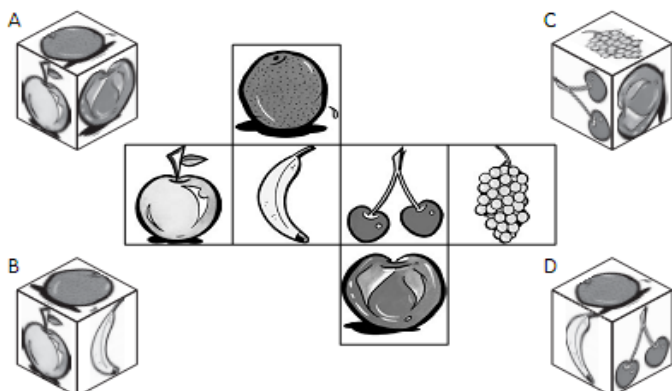


# Тур 1. Наблюдательность




## Развертка куба. (20 + 30 баллов)

Какой куб соответствует указанной развертке?



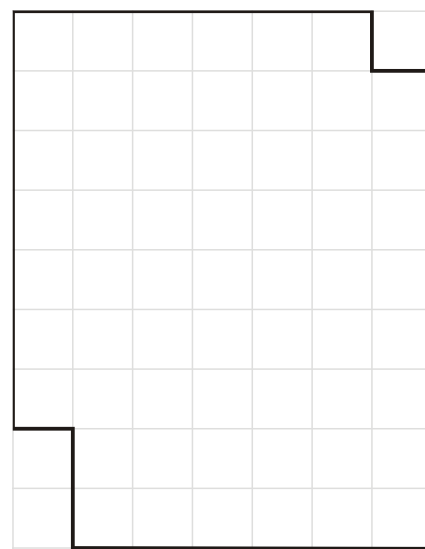
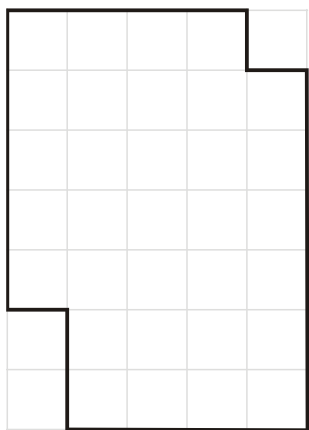
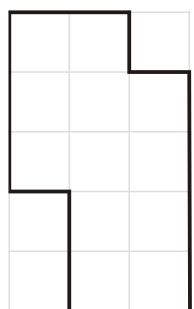
## Найди число. (30 + 50 + 60 + 70 баллов)

Укажите закономерность и найдите недостающие числа.



## Разрезание. (20 + 60 + 60 баллов)

Разрежьте каждую из фигур на две равные части.





## Потоковая логика. (30 + 30 + 40 + 40 + 70 + 70 баллов)

Расставьте числа от 1 до 6, чтобы каждое число встречалось в строках, столбцах, выделенных последовательностях ровно по одному разу.

Пример

2	5	4	6	3	1
6	1	3	4	5	2
1	3	2	5	6	4
3	4	6	1	2	5
4	2	5	3	1	6
5	6	1	2	4	3

